

政通教育 2021 年国家公务员录用考试

《行政职业能力测验》模拟试题一

第一部分 常识判断

(共 20 题, 参考时限 10 分钟)

根据题目要求, 在四个选项中选出一个最恰当的答案。

请开始答题:

1. 习近平总书记在纪念五四运动 100 周年大会上的讲话中引用鲁迅先生的话: “青年所多的是生力, 遇见森林, 可以辟成平地的, 遇见旷野可以栽种树木的, 遇见沙漠, 可以开掘井泉的。” 这主要要求新时代中国青年应:

- A. 担当时代责任
- B. 勇于砥砺奋斗
- C. 练就过硬本领
- D. 锤炼品德修为

2. 在推动我国经济社会发展过程中, 必须深入推进收入分配制度改革, 正确处理效率与公平的关系。这体现了:

- A. 解决问题需要重视事物之间的联系
- B. 办好事情需要重视量的累积
- C. 分析问题需要先进理论指导
- D. 实现目标需要充分把握机遇

3. 减贫是衡量发展的重要标志。作为贫困群众的保命钱和减贫脱贫的助推剂, 多年来, 财政扶贫资金对加快贫困地区发展, 改善基本生活条件发挥了积极作用。可见扶贫基金是:

- A. 社会总需求一部分
- B. 社会总供给一部分
- C. 提高社会效率, 改善人们生活的物质保障
- D. 具有促进国民经济平稳运行作用

4. 下列不属于唯物主义观点的是:

- A. 理生万物, 理主动静
- B. 形存则神存, 形谢则神灭
- C. 世界是一团永恒的活火
- D. 气者, 理之依也

5. 2016 年以来, 美联储一直宣称存在加息的预期。若美联储实行加息, 则下列现象最不可能发生的是:

- A. 美国国内整体物价下降
- B. 中国买家“美淘”成本下降
- C. 大宗商品价格下降
- D. 中国股市指数下降

6. 下列做法符合《大气污染防治法》的是:

- A. 某公司转让尚在质保期内但对大气存在重污染的设备
- B. 某省人民政府环保部门网站未公布大气环境质量标准
- C. 某市环卫单位低峰时段对行道树喷洒有机杀虫剂
- D. 某加油站向当地的汽车和摩托车销售普通柴油

7. 关于中国传统乐器及相关知识, 下列说法正确的是:

- A. 我国最早出现的乐器为弹拨类乐器
B. 笛子和箫是同一种吹奏乐器
C. “滥竽充数”的故事发生在春秋时期
D. 《渔舟唱晚》是古筝的代表曲目
8. 下列名句与其出处对应错误的是：
A. 三军易得，一将难求——《三国演义》
B. 道高一尺，魔高一丈——《西游记》
C. 强者为尊该让我，英雄只此敢争先——《水浒传》
D. 世事洞明皆学问，人情练达即文章——《红楼梦》
9. 下列关于航天知识的说法，正确的是：
A. 第一宇宙速度是指物体脱离地球引力束缚所需的最小速度
B. 宇宙飞船具有许多特设系统，飞行成本远高于航天飞机
C. 美国人阿姆斯特朗是第一个进入太空的地球人
D. “天宫二号”的实质是小型实验性空间站
10. 单质是由同种元素组成的纯净物。下列选项中，均属于单质的一组是：
A. 氧气、钢铁
B. 活性炭、氢气
C. 白磷、石墨烯
D. 石英、金刚石
11. 下列古代水利工程中，始建于秦朝的是：
A. 都江堰
B. 坎儿井
C. 灵渠
D. 京杭大运河
12. 下列著名工艺品中，属于陶器的是：
A. 斗彩鸡缸杯
B. 唐三彩
C. 景泰蓝
D. 四羊方尊
13. 根据《中华人民共和国道路交通安全法》，下列说法错误的是：
A. 交管部门根据执法需要有权扣留机动车号牌
B. 车主申请机动车登记，需提交机动车来历证明
C. 电动自行车在非机动车道内行驶时时速不得超过 15 公里
D. 人民警察执行紧急公务时可在高速公路上拦截检查过往车辆
14. 下列不属于文艺复兴时期文学作品的是：
A. 《爱弥儿》
B. 《十日谈》
C. 《麦克白》
D. 《巨人传》
15. 关于瑜伽，下列说法正确的是：
A. 瑜伽起源于泰国
B. “瑜伽”一词由梵语音译而来
C. 情绪波动大时可练习瑜伽
D. 瑜伽能减缓新陈代谢，调节身心
16. 下列不属于“白色污染”污染源的是：
A. 高密度聚乙烯塑料袋
B. 聚偏二氯乙烯保鲜膜
C. 聚丙烯快餐盒
D. 含丙二醇纸巾

17. 关于我国的岛屿，下列说法正确的是：

- A. 南沙群岛是我国面积最大的群岛
- B. 从地质成因来看，崇明岛是典型的大陆岛
- C. 台湾岛的河流流向大多为自西向东
- D. 海南岛终年高温，但有明显的旱季和雨季

18. 下列自然灾害与灾害类型对应错误的是：

- A. 地震——地质灾害
- B. 台风——海洋灾害
- C. 蝗灾——生物灾害
- D. 磁暴——天文灾害

19. 下列动物行为不能用来预测天气的是：

- A. 蜻蜓点水
- B. 燕子低飞
- C. 蚂蚁搬家
- D. 知了高唱

20. 关于消防器材，下列说法正确的是：

- A. 干粉灭火器利用瓶内溶液混合产生的二氧化碳灭火
- B. 消火栓需要按逆时针方向旋转才能打开阀门喷水
- C. 太平斧主要适用于公交车上消防使用，用于破窗逃离
- D. 烟雾感应器通过检测温度变化来实现火灾的防范

第二部分 言语理解与表达

(共 40 题，参考时限 35 分钟)

本部分包括表达与理解两方面的内容，请根据题目要求，在四个选项中选出一个最恰当的答案。

请开始答题：

21. 当今世界，已进入全球化时代，各国走向现代化的国家治理是必然的、共同的趋势。在这样的进程中，国家之间可以相互学习、相互借鉴。当然，这样的学习借鉴，绝不是照抄照搬、_____。现代化不等于西化，现代化的国家治理之路也不是只有一条路可走，毕竟条条道路通罗马、支支江河入大海。

填入画横线部分最恰当的一项是：

- A. 故步自封
- B. 生搬硬套
- C. 墨守成规
- D. 人云亦云

22. 不出所料，郑州通车 2 个多月的陇海路——中州大道互通式立交桥，终于堵成了一锅粥。明明可以做成为民造福的新政绩，却造成了百姓吐槽的新堵点。这段立交桥，造成今天拥堵的主要原因是“9 车道陡然减为 4 车道”。从这个菜鸟式的设计足以看出，整个交通规划属于_____，至少在“纸上谈兵”的过程中，交警部门丰富经验的判断，并没有被采纳到规划决策中来。这种失误，是事后一百个诸葛亮都无法弥补的硬伤。

填入画横线部分最恰当的一项是：

- A. 一意孤行
- B. 朝令夕改
- C. 千虑一失
- D. 闭门造车

23. 碎片化的阅读，确实方便了信息获取，但若是从人文涵养的角度看，碎片化本身意味着不全面，再加上网络阅读的简化，人们由此实现的认知和理解，很容易导致片面化的问题。更不用说，言过其实的“标题党”以及对阅读主题的_____，比比皆是。这种人文环境里，人们浏览多、阅读少，接触信息多、沉静思考少。注意目标的不断更替，更带来心智结构的极简和麻木。如果单纯依赖这种文化

土壤的_____，人类理性思维恐怕会越来越少，独立思考、辨别真伪、理性行动的能力也会趋于匮乏。

依次填入画横线部分最恰当的一项是：

- A. 误解 素养 B. 粉饰 教养
C. 扭曲 滋养 D. 夸大 修养

24. 只有保障行业组织运行的独立性，职称评定权的下放才具有实际意义。当前许多行业组织具有行政化色彩，与政府主管部门有_____的联系，甚至可以说是行政主管部门权力的延伸。如果这种状况不改变，权力下放就可能成为行政权力继续长袖善舞的烟幕弹，其后果比行业协会自己乱评奖更有损社会公平和正义。

填入画横线部分最恰当的一项是：

- A. 扑朔迷离 B. 欲盖弥彰 C. 千丝万缕 D. 无坚不摧

25. 一部战争电影包不包含反战思维，是衡量它是否为佳作的重要标准甚至是唯一标准。当战争不是为了打击邪恶，它就失去了正义性。同此逻辑，当战争电影看不到沉痛与反思，那么影片所呈现出来的暴力，就是一种_____，它会对年轻人造成什么样的鼓动？回顾历史上重大的战争，有的是已经在全世界范围内达成_____，比如反法西斯战争是人类正义的一次重大胜利。有的则是站在不同立场上，会有不同的认知，比如朝鲜内战。

依次填入画横线部分最恰当的一项是：

- A. 挑拨 统一 B. 教唆 共识
C. 煽动 共鸣 D. 指使 准则

26. 要使互联网金融成为一个生机盎然、繁花似锦的百草园，从建园之初就得引入必需的园艺师，对互联网金融做适度监管。当前，作为社会舆论，最重要的是_____“一山难容二虎”的排他性思维方式，清醒看到互联网金融的成长不是对传统金融的彻底排斥，更不是取而代之，而是对传统金融的信息化嫁接，以_____的认识论为互联网金融的成长提供合适的方法论。

依次填入画横线部分最恰当的一项是：

- A. 铲除 现实 B. 摒弃 包容
C. 削减 创新 D. 改变 超前

27. 回顾历史，科学史上沉沉浮浮，当时轰动之后_____甚至被证“伪”的成果，并不是个案。关于怀疑韩春雨数据“造假”事件，有关方面可以成立专门的调查组，做出科学严谨的调查。在作出最后调查结论之前，舆论不应当_____地充当道德评判的角色，匆忙定性下结论。相反，应该_____报道事实，给真相以时间，理性地推动科学疑问的解决。

依次填入画横线部分最恰当的一项是：

- A. 湮没 武断 客观 B. 沉寂 主动 真实
C. 哑然 迅速 独立 D. 消逝 轻率 权威

28. 房地产已绑架了中国经济特别是中国宏观经济政策，置宏观调控政策于_____之境地。一方面全社会资金资本全面进入房地产领域，实体经济空心化、边缘化，中小微企业融资难融资贵加剧，整个经济结构已经_____重重，其对实体经济的挤出效应将导致经济整体结构的畸形，另一方面一旦出现房地产价格大幅下降，不良资产就会出现，从而连累整个金融体系和宏观经济，不排除爆发金融危机。这绝不是言过其实、_____。

依次填入画横线部分最恰当的一项是：

- A. 进退维谷 祸患 谈虎色变 B. 骑虎难下 隐患 危言耸听
C. 草木皆兵 困难 庸人自扰 D. 四面楚歌 艰难 夸夸其谈

29. 他从来不是一个固执的艺术家或者文艺青年，不死磕，喜欢_____，拍大片就是在“跟着大潮流走”。

填入划横线处最恰当的一项是：

- A. 顺势而为 B. 别具一格 C. 循序渐进 D. 与时俱进

30. 近日，一段名为“汽车占自行车道，初中生拍照被骂”的视频备受网友关注。古语云，“家事、国事、天下事，事事关心”，其意就是不把读书_____为一种自我体验，而是把读书作为推动社会进步的动力来源。如今，一名未成年人的较真，_____了当书本知识施之于严肃现实时遭遇的尴尬。希望今后社会上能有更多的“傻子”出现，一点点_____那些所谓“聪明”的潜规则所带来的局面，让书本上的大道理真正成为社会上的明规则、硬规则。

依次填入划横线部分最恰当的一项是：

- A. 局限 凸显 扭转 B. 限制 突现 反对
C. 限定 凸现 动摇 D. 规定 突显 改变

31. 出版领域_____的现象并不罕见，一些具有文献性质的多卷本图书出现差错以后，由于很少有再版的机会，这些差错将永久留存，误导很多人。总结其教训，是图书出版已经走上市场化的道路，这使出版单位形成了逐利的观念。_____一本图书的优劣，不是看书质量如何，而是以_____了多少利润为标准，对差错纠正的重视程度降低了。

依次填入划横线处最恰当的一项是：

- A. 良莠不齐 评价 牟取 B. 鱼龙混杂 判断 谋取
C. 江河日下 品评 获取 D. 粗制滥造 评判 创造

32. 下列句中加粗的成语，能与括号内的成语对换，对换后意思基本不变的一句是：

- A. 他们在阴凉角落度过了整个白天，对着一本神秘莫测的书**苦思冥想**（朝思暮想）
B. 他的伤一旦治愈，就必须接受审判，守旧老人本想**宽大为仁**（息事宁人）
C. 雨后的阳光把彩虹照射得**光彩夺目**（光鲜亮丽），美丽无比
D. 人们把他的尸体扔到山脚下，借以警告敢于怀疑祖先智慧的人，**杀一儆百**（杀鸡儆猴）

33. 长期以来，许多地方存在大医院人满为患而基层医疗机构_____的现象。分级诊疗的实施方便了群众_____看病，使他们在身边的基层医疗机构就能获得便捷规范的诊疗，大大提高了医疗服务的可及性。

依次填入画横线部分最恰当的一项是：

- A. 门庭冷落 快捷 B. 人迹罕至 随时
C. 无人问津 及时 D. 门可罗雀 就近

34. 培育“信用文化”其路漫漫。工业化、信息化、城镇化、市场化、国际化持续_____，中国传统以家族、血缘、地域为纽带的信任半径显然无法同步发展，加之信息不对称现象严重以及金融资源被高度垄断，中小微企业所面临的融资环境之艰苦可想而知。加快征信制度建设，增加信息透明度，不断完善信用体系，是培育“信用文化”的基础性工作，也是一项_____的大工程，应当以时不我待的意识真正做好“最后一公里”的落实工作。

依次填入画横线部分最恰当的一项是：

- A. 促进 任重道远 B. 推进 迫在眉睫
C. 发展 厚积薄发 D. 推动 千钧一发

35. 发达的社交媒体_____了人们的不满——加剧了人群之间的隔离和敌意。你很容易找到和你

志同道合的人，从而产生你所在的小圈子就是世界的错觉，对不同的信息_____，自大又闭塞。当持有非主流观点的一小撮人表现出意志的坚定性、主张的一贯性和态度的强烈性时，就可能对多数产生影响，甚至可能改变已有的公共舆论导向，最终改变事情的走向。这样一来，一个开始很小众、很不政治正确、非主流的议题或主张就很容易发酵成_____全民的大事件。

依次填入画横线部分最恰当的一项是：

- A. 导致 置若罔闻 聚集 B. 引发 闭目塞听 影响
C. 激化 另眼相看 胁迫 D. 放大 充耳不闻 裹挟

36. 里约奥运会上，因预赛交接棒失误原本无缘晋级决赛的美国队在申诉后获得重赛，并在重赛中跑出 41 秒 77，将原本排名预赛第八的中国队挤出了决赛。奥运会这个层级的比赛最重要的原则是依循行事，尽可能为所有参赛者提供公平竞争的机会。_____的是，尽管中国田协也申诉了两次，但最终却没有讨回应有的公平、公正。这一结果对四位中国姑娘所有努力与付出的践踏是显而易见的，对中国田径的伤害也是_____的。

依次填入画横线部分最恰当的一项是：

- A. 遗憾 不言而喻 B. 有趣 毋庸置疑
C. 不幸 欲盖弥彰 D. 可悲 不容置疑

37. 对于贫困的根源是什么以及如何脱贫，社会上见仁见智、_____，更不乏极端观点。中国现有的贫困人口中，农村贫困人口占多数。农村贫困人口主要分布在中西部山区，对外交通闭塞，种植业生产力一向低下，且教育发展水平极其落后。此外制度性因素也_____，我们将贫困溯源于政府开发、教育甚至城乡二元与户籍制度等政策安排，应该也不会有多大异议。

依次填入画横线部分最恰当的一项是：

- A. 莫衷一是 根深蒂固 B. 针锋相对 不言而喻
C. 不易之论 源远流长 D. 各抒己见 当仁不让

38. 不知道“用人不疑，疑人不用”最早出于何处，又是谁人的发明。但从读史得知，它可以说是一句_____，不时都有人说到它，也认可它的正确性。然而，过往的许多事实证明，一些被“用人不疑”的人，其实未必是_____的贤者；而一些被“疑人不用”的人，也未必就是_____。多疑还是不疑由某一个人独断于心的时候，这种错位就不能避免了。

依次填入画横线部分最恰当的一项是：

- A. 老生常谈 德才兼备 不肖之徒 B. 肺腑之言 多谋善断 无良之辈
C. 无稽之谈 大公无私 无耻之徒 D. 经验之谈 德高望重 无名鼠辈

39. 近来有媒体蓄意炒作，认为蔡英文单身女性身份容易导致她决策偏激，这种攻击女性身份的行为并不妥当。性别固然重要，与性别同等重要的还有族群、肤色、年龄、地域等等，而这所有的背后，都隐藏着资源的_____和权力的博弈。就其实质而言，依然是政治的争斗。所以蔡英文的当选，更多的是一种政治游戏，如果只是从性别的角度或从蔡英文的婚姻状况来评析蔡的政策，无疑是_____，抓不到肯綮之处。

依次填入画横线部分最恰当的一项是：

- A. 夺取 以点带面 B. 牟取 管中窥豹
C. 谋取 颠倒是非 D. 攫取 隔靴搔痒

40. 在接二连三的暴恐袭击中，暴恐分子精心选择时机，以残害无辜群众的暴恐行径，制造恐怖气氛和轰动效应，以此向党和政府示威施压。然而，他们越是_____，就越说明他们已经穷途末路；他们越是不择手段，就越让世人看清楚他们的凶残本质。与暴恐分子的斗争，是一场正义与邪恶、进

步与反动、法治与犯罪的较量，没有丝毫_____、退让的余地。

依次填入画横线部分最恰当的一项是：

- A. 呕心沥血 迟疑 B. 殚精竭虑 畏缩
C. 处心积虑 妥协 D. 煞费苦心 和解

41. 科学与法治，对当代中国而言，非常重要。科学技术的迅猛发展，极大地改变了人们所身处的时代和社会。无论中外，法律演进、法律推理和案件审理、法官判决都受到科学发展的影响：为了寻求更准确的判罚结果，科学思维一再被法律人所借鉴和学习；科学研究成果，科学方法的采用对案件审理和结果都有很大影响。法律人应该开放心灵，尊重科学，跟上科学的脚步。但是，构建人类社会秩序的法律毕竟不同于描述自然界规律的科学，法律人需要有节制、有限度地汲取科学智慧成果。

这段文字意在说明的是：

- A. 法律人应当谨慎地拥抱科学 B. 当代中国科学与法治的关系
C. 法律需跟上科学发展的步伐 D. 科学技术的发展影响了法治

42. 日前，北京、天津、河北三地围绕京津冀“食品药品安全区域联动”等签署一揽子协议，今后一旦在京津冀区域内出现问题食品、药品，可追查其来源、去向。食品药品追溯体系之所以被一些国家广泛使用，一方面是能降低监管部门信息获取成本，提升监管效率；另一方面在于倒逼企业提高安全意识，主动进行风险控制。以牛肉为例，所有欧盟产牛肉产品都应包括：该牛的出生国别、出生日期、育肥国别、屠宰国别、日期以及屠宰厂标识等重要信息。有了完整信息，事后追溯有了可能，食品安全也多了一道安全阀。

对文段概括最恰当的一项是：

- A. 食品药品追溯体系被广泛使用的原因 B. 食品药品追溯体系可以提高监管效率
C. 我国亟需推广建立食品药品追溯体系 D. 加强食品安全需政府和企业共同努力

43. 陶瓷表面施以釉料，用以保护泥胎和起到装饰作用，这种手法在中国已经有三千年以上的历史。长期以来，釉的种类虽然比较多，但大多数时候是以单色面目出现。到了宋代，以钧窑为代表的颜色釉异军突起，通过不同的配方和烧制方法，使得釉面产生奇幻的窑变效果，引领风骚数百年，影响深远，但是宋代以后的颜色釉装饰停留在抽象的效果中，其中虽然有用颜色釉烧制的树叶等图案、图形，但总的来说没有质的突破，这是因为颜色釉绘画有一个重要的特点，把控难度较大。

下列说法与文段相符的是：

- A. 中国在陶瓷表面施以五彩釉的手法已有千年历史
B. 宋代以后釉的种类多以双色面目的颜色釉出现
C. 颜色釉不易控制的特点阻碍了陶瓷图案的发展
D. 宋代是中国陶瓷烧制发展的巅峰时期

44. 高等教育作为一种社会流动的手段，承载着人们知识改变命运的文化认同和价值追求；大学生群体承载着成千上万家庭的希望，勤奋、上进、朝气蓬勃是公众对他们的角色期望。“懒人经济”显然打破了人们的刻板印象，在心理落差之下，人们往往会对“懒人经济”进行情绪性的批评质疑和先入为主的价值判断。在一个盛行符号互动的时代里，原本中性的“懒人经济”被贴上了好逸恶劳、急功近利、热衷走捷径、精神“早衰”、精致的利己主义者等标签。

这段文字强调了：

- A. 社会对于大学生群体存在刻板印象
B. 人们易戴有色眼镜看待“懒人经济”
C. 当下时代各种标签主义过度盛行
D. “懒人经济”所具备的种种优势

45. 在科技成果转化的实际过程中，高校普遍遇到了一些障碍。首先，科技成果与企业需求脱钩的矛盾长期存在。大学科研工作与企业技术创新在目标、路径、组织方式、评价标准及环境要求等方面存在着很大的差别，因此高校的成果很难迅速转化成适应市场需求的新产品和新技术。其次，成果转化的机制不畅，高校传统体系是为了适应学术研究和人才培养而设计制订的，对于科技成果转化，产学研合作等社会服务方面的需求，现有体系在机构设置、管理制度、激励机制等方面匹配性不足。

这段文字意在说明：

- A. 高校现有体系在推进科技成果转化方面缺乏匹配性
- B. 大学科技成果转化前应提前调研预知市场的新需求
- C. 当下大学科研工作应积极对接企业的技术创新目标
- D. 高校科技成果转化存在供需矛盾与转化不畅的问题

46. 农作物种植业投入耕地、淡水和其他农业投入品，生长收获的不仅是籽粒和果实，秸秆同样也是重要的农作物成果。从这个意义上说，把秸秆利用起来，就是对一部分农业成果的利用。从热量的角度看，秸秆燃烧值约为标准煤的 50%。从营养价值看，1 吨普通秸秆平均与 0.25 吨粮食的营养相当。在现代农业条件下，运用先进的加工技术，农作物秸秆不仅不是废弃物，而且是非常重要的农产品。农作物秸秆蕴涵丰富的太阳能，可以生产生物质能源、生物质建材以及饲料、肥料、食用菌等，具有可观的开发价值。

下列说法与原文不符的是：

- A. 现代农业可用先进加工技术将秸秆变废为宝
- B. 等量粮食的营养价值大约是普通秸秆的 4 倍
- C. 日常使用时秸秆的燃烧时长比标准煤少一半
- D. 农作物秸秆还有更多的开发价值等待发掘

47. 随着生活水平的提高和消费能力的增强，给孩子提供更好的教育更是成了每个家庭的头等大事。在这样的背景下，义务教育往往显得有些“普通”，因而很容易被忽视。而校外培训机构摸准了家长的心态，针对现有教育仅讲授常规知识的弱点、难点进行“花式”宣传，当然显得更有吸引力。

对文中的“普通”理解正确的是：

- A. 学前教育花费较低
- B. 义务教育缺乏创新
- C. 当下教育缺乏宣传力度
- D. 家长不重视义务教育

48. 近日，朋友圈里流传着一段动画：明成祖朱棣从画像中跳出来，唱着 Rap，玩着自拍，用微信、QQ 等与自己后宫和大臣联络……600 岁的故宫，通过文创产业，正在与互联网进一步亲密接触，不断扩展自己的影响力。传统文化，其幽静深邃堪比深深庭院，正是因为有最单纯、最本初的文化热爱，路过之人才愿意叩开门扉，一探究竟。因此，以或萌或雅的方式吸引人来，只是极为关键的第一步。而最终决定大家能在这庭院之中停留多久，还是文化本身的魅力。判断文创是否成功，一条重要的原则就是看能否将吸引人的巧妙形式与留住人的文化内核融会贯通。

这段文字意在说明的是：

- A. 我们应该通过文创激发人们对文化的兴趣
- B. 文创产业对传承与创新传统文化的重要性
- C. 文创的成功在于保留人们对于文化的兴趣
- D. 形式与文化内核的融通是文创成功的关键

49. 在商事交易领域，法治可减少交易不确定性。若法治不昌，关系型交易会成为主流，政商勾结、权力商业化、商人政治化、“洗钱”等现象将遍地皆是。理性交易秩序的崩溃，会损害国家竞争力。西方法律与金融的研究表明，法治清明会促进经济发展。没有法治保障的交易像“盲打”，商人只能依习惯

行事，无法理性选择交易结构、创新商业模式、准确评价交易媒介的正当性与合法性，更无法抵抗权力的随意“干扰”。近年来的外资药企贿赂案、中石油系列窝案、华润收购案等，都足以印证法治对公平交易的意义，即为交易提供了稳定预期，有助于形成良善的商业秩序。

文字概括最恰当的一项是：

- A. 法治是公平交易的首要因素 B. 倡导建立公平理性商业秩序
C. 法治在商事交易领域的作用 D. 交易的不确定性造成的危害

50. ①由于我国信用体系建设滞后于经济发展，经济生活中的失信问题比较普遍，如制假售假、商业欺诈、销售有毒有害食品、不依法履行商业合同等。

②市场经济条件下的信用还是一种制度和规则，有着双重属性，既是人与人之间约定俗成的，也是人为设计具有强制性的规则。

③因此，建立完善的信用信息系统，强化对信用的监督管理，显得越发重要和紧迫。

④只有拥有一个较为完善的信用系统，才能建设比较完整的市场经济体系。

⑤信用是一种信誉，属于道德品质范畴。

⑥市场经济是信用经济，信用是市场经济健康发展不可缺少的要素，市场经济的发育成熟离不开信用的导向和保障作用。

将以上 6 个句子重新排序，语序正确的是：

- A. ⑤②⑥④①③ B. ⑤②⑥③④①
C. ⑥④⑤②①③ D. ⑥⑤②①③④

51. 总体上看，高校思想政治教育成效显著，求实创新的氛围是主流。但也不可忽视，在一些院校，个人主义、拜金主义、享乐主义和庸俗现实主义确实存在。比如，一些教授喜欢当“老板”，不愿上台，不想坐冷板凳。而一些学生心浮气躁、急功近利，对学业、兴趣、理想等避而远之。在一些学校，问问同学们每晚的“卧谈会”都聊些什么，看看同学们课外读物都读些什么，就会知道，一股低俗、粗鄙的思潮正暗流汹涌，不少自信满满的大学生其实很迷惘。这固然跟转型期的社会环境、思想困惑很有关系，但从教育自身反思，需要改进的地方不少。

作者接下来最可能讲述的是：

- A. 教育在社会转型时期遇到的困难 B. 社会应营造求实创新的正向氛围
C. 高校学生迫切需要解决哪些问题 D. 教育应如何走出盛行的不正思潮

52. ①这种信息技术“引领”基础教育教学的观点和做法，存在很大问题。

②电子手段完全取代传统教学，一切都以 PPT 和平板电脑为介质进行互动教学。

③当前，不少中小学教育教学中出现了完全的电子化教学趋势。先用电子白板取代传统教学中的黑板，进而用触摸屏取代电子白板。

④相比传统教学，信息技术驱动下的教学模式很大程度都是预设的程序和内容。

⑤因此，信息技术在基础教育阶段所起的作用，应该限定在辅助、支持、保障、提升的层面，而不是“引领”。

⑥有时只是将纸质内容电子化，使得教学过程中本应具备的灵活性、生成性因素很难体现出来。

将以上 6 个句子重新排序，语序正确的是：

- A. ③②①④⑥⑤ B. ③②⑥⑤④①
C. ①②③⑥④⑤ D. ①⑥⑤③②④

53. 国家终于出台政策，强调要保护文物，这是好事。中国的文物，经过革命和建设两大冲击之后，残存的已经不多了。从地表上看，中国已经变得比美国还要年轻，城市有一个算一个，比纽约还要纽约，建筑都是新的，钢筋水泥加大玻璃，广场街道，霓虹灯，每个城市都一个样。文物有吗？有，都

在几个中心城市的博物馆里，在私人收藏家手里。然而，那里的东西，已经不是文物，只是脱离了文化背景的商品，就跟纽约大都会博物馆里的中国文物一样，只是观赏和拍卖的价值。

段文字最想说明的是

- A. 文物被收藏便不是文物是古玩
- B. 文物的文化价值才是永恒的
- C. 城市建设与文物保护相克相生
- D. 文物流失是中国文物保护之痛

54. 研究显示，外貌相关基因多于人体其他部位的相关基因。非常多的基因参与了面部结构、头发、眼睛及肤色这些千变万化的容貌特征的构建。因此，人脸所呈现出来具有明确的遗传特性。但是，基因多样性也是有限的，只有那么多。人们会有这样某个时刻，你手里会出现同样一副牌是一个道理。

这段文字意在说明

- A. 脸部特征的丰富性源自于基因的多样性
- B. 人类撞脸是由于脸部基因的多样性有限
- C. 脸部的遗传特征性在家庭成员内部更明显
- D. 区分个体相貌的能力能使人类得到好处

55. 连日来，科学家们就“中国目前是否适宜建大型对撞机”的辩论，使一个原本在专业圈子内部“窃窃私语”的问题，成为引人关注的公共话题。中国该不该上马超级对撞机是个非常专业的科学问题，目前仁者见仁、智者见智，达成共识尚需时日。但科学家们围绕某些有争议的科学问题公开辩论、激烈“对撞”的做法有其积极意义，值得倡导。首先，这种“对撞”有助于减少重大科技决策的盲目性。其次，这种“对撞”有助于培育健康的科学文化。再次，这种“对撞”有助于提升公众的科学素质。值得称道的是，在这场围绕大型对撞机该不该上马的“对撞”中，讨论双方都以理服人、就事论事，既没有以势压人，更没有辱骂约架。希望科技界这样的“对撞”能更多些。

最适合做本段标题的是：

- A. 科学问题都应展开“对撞”
- B. 一场激烈的科学“对撞”
- C. 我国是否宜建大型对撞机
- D. 期待更多的科学“对撞”

56. 2015 年电影暑期档，青春片一如既往地成为重头戏。青春片的势头走盛很大程度上依赖于电影生产对受众群体的“精准投放”。统计数据显示，2014 年中国的核心观影人群中，“大学本科及大专”占比 81%，“硕士及以上”占比 10%，累计超过 90%。正是这批 80 后和 90 后，构成了中国最有活力的观影人群。然而，国产青春片的质量水准和它在数量上的“春天”恐怕并不能匹配。除了后续乏力的票房表现以外，青春片口碑也正面临滑坡。无论是从对“青春”现实的理解与表达，还是从剧情内在的情感和逻辑，大多数青春片都表现欠佳。

这段文字意在强调：

- A. 青春片具有很大的市场潜力
- B. 青春片品质未满足市场需求
- C. 青春片有走向颓势的可能性
- D. 青春片观影者以大学生为主

57. 人口和收入决定真正的住房刚需， 这些人在哪儿呢？ 当然主要是在大城市。从投资来讲，投资肯定是买涨不买跌，谁能到房价没有任何波动而且还有下跌可能的三、四线城市呢？肯定去找有升值潜力的地方去投资，这都决定了钱肯定是要往房价上涨的城市流，就会进一步推动这些地方的房价上涨。而这种趋势在未来很长时间内都不会改变，这取决于中国区域发展的均衡程度，如果中期内仍然是发展不均衡的状况，房价的分化肯定也会继续存在。

这段话的核心观点是：

- A. 一、二线城市房价贵的原因
- B. 房价分化的趋势会继续存在
- C. 如何调控目前房价分化的问题
- D. 我国地方区域发展的不均衡性

58. 异地排污的违法成本过低问题，需要重视并解决。目前，合法处置危险废物的成本非常高，专家称 1 吨危险废液的合法处置费用可能高达 7000 元以上，而我国的固体废物污染环境防治法规定，未经批准擅自转移危险废物的，罚款最高上限为 20 万元。对于危险废物的产生企业来讲，违法反而有可能是更“经济”的选择。而一旦监管乏力，容易形成“破窗效应”，让更多人铤而走险，并演化出黑色产业链。因此，_____。

填入横线部分最恰当的一项是：

- A. 需降低合法处置危险废物的成本 B. 必须调动各方面的环境监管力量
C. 根治异地排污需要填补法治洼地 D. 遏制异地排污需要提高违法成本

59. 在乡村建设运动时期，中国还是一个以农业为主的国家，因此，当时的农村教育工作者更多的是主张“留农教育”，主张农村教育要为农村的现代化服务。随着城市化、现代化的不断发展，特别是随着农业在国民经济中的比重不断下降之后，农村教育逐渐向城市化方向发展，即成为了“离农教育”。对于农村教育未来的发展方向，不是选择“离农教育”还是“留农教育”的问题，而是其发展方向要与农村经济社会发展状况和农民的经济、社会和文化状况相适应。虽然农村教育模式的选择是因时而异、因地制宜的，但是农村教育的现代化是其未来发展不变的方向。

这段文字作者强调的是：

- A. 教育现代化是农村教育未来发展方向 B. 农村教育模式需因时制宜、因地制宜
C. 呼吁加快推进农村教育现代化的建设 D. 我国现阶段农村教育模式亟待现代化

60. 谁都希望自己一生平安顺利，但挫折、困难、逆境往往在所难免。当今社会，资源更稀缺，竞争更激烈，人们遭遇挫折和逆境的可能性也在加大。在这一背景下，有人提出“逆商”概念。所谓“逆商”，是指摆脱挫折、克服困难、走出困境的能力。因为一个人事业成功、生活幸福，不仅需要智商、情商，还需要“逆商”，以更好的摆脱挫折，克服困难，走出困境。

下列古代名句中，不能直接说明原文主旨的一项是

- A. 天行健，君子以自强不息 B. 不畏浮云遮望眼，只缘身在最高层
C. 宝剑锋从磨砺出，梅花香自苦寒来 D. 天生我材必有用，千金散尽还复来

第三部分 数量关系

(共 10 题，参考时限 15 分钟)

在这部分试题中，每道题呈现一段表述数字关系的文字，要求你迅速、准确地计算出答案。

请开始答题：

61. 甲乙工程队要完成 A、B 两个项目。A 项目若甲工程队先做 5 天，则乙再做 2 天即可完成，若乙队先做 5 天，则甲队再做 3 天也可完成。已知甲需要连续工作 10 天完成 B 项目，现让乙单独做 B 项目，耗时 18 天才将其完成，则乙中途休息了多少天？

- A. 3 B. 8 C. 12 D. 15

62. 一年前小赵购买了一套价值 60 万元的房子，当时只参与了“定金交 1 万抵 2 万”的活动。现在房子市价上涨了 20%，小赵欲在市价的基础上再提价 5% 出售该套房，已知房屋出售需由卖方缴纳成交价的 5% 作为过户费用，并且买方需缴纳 1000 元合同费用。问小赵出售该套房将获利多少元？

- A. 11.72 万 B. 11.82 万 C. 12.72 万 D. 12.82 万

63. 某工厂纺织工人分为师傅和学徒两个等级，为了促进学徒级工人的提升，实行小组分配制度。

如果每组分配 2 个师傅和 5 个学徒，则还剩下 1 个师傅未安排；如果每组分配 3 个师傅和 7 个学徒，则恰好没有工人剩余。问该厂师傅级工人比学徒级工人少多少人？

- A. 16 B. 18 C. 20 D. 26

64. 甲、乙、丙三个社区为建设小区绿化一起购进一批梧桐树和银杏树树苗，其中梧桐树占总数的 $\frac{1}{3}$ ，已知甲社区所需树苗是乙丙两社区和的一半，乙社区比丙社区少 20%。其中甲社区梧桐树和银杏树所需比例为 1:2，乙社区为 3:5，则丙社区梧桐树和银杏树所需比例为多少？

- A. 1:2 B. 3:7 C. 3:4 D. 4:7

65. 某快递公司收费标准如下：若一次性邮寄 10 件以上，省外部分给予八折优惠，省内部分给予七五折优惠。现小明的网店使用该快递公司一次性发货 30 件，花费总金额优惠了 22%，问共有多少件发往省外？

- A. 12 B. 15 C. 18 D. 20

66. 小孙夫妇现在共有两个孩子，全家人 7 年前的年龄和是 48 岁，1 年前的年龄和是 63 岁，2 年后的年龄和是 74 岁，那么 2 年前小孙一家人的年龄和是多少岁？（出生当年算作 0 岁）

- A. 58 B. 60 C. 59 D. 62

67. 现有 7 个苹果 12 个梨，要将它们分给 4 个小朋友，要求每个小朋友都至少有一个苹果，且梨的数量多于苹果，问有多少种分法？

- A. 20 B. 40 C. 60 D. 80

68. 某班组织学生周末看电影，每人都报了名。其中报名周六的是周日的 1.5 倍，报名周日看电影的有 36 人，两天都报名参加的人数占只报名周日人数的 50%。那么只报名周六的学生有多少人？

- A. 54 B. 42 C. 36 D. 18

69. 长为 100 米的队伍以 1 米/秒的速度匀速前进，甲、乙二人分别在队伍的队首和队尾，现甲乙二人接到命令，需要甲将某文件交到乙手里，于是甲乙二人分别以 4 米/秒和 6 米/秒的速度同时向对方位置出发，相遇后二人均以 4 米/秒的速度匀速返回自己在队伍中的位置，问乙返回队尾时甲距离队首还有多少米？（文件交接过程的时间忽略不计）

- A. 10 B. 15 C. 20 D. 25

70. 现有一块长 45 厘米、宽 30 厘米、高 20 厘米的长方体木块，李师傅欲通过切割、粘合将其加工成一正方体，假设加工过程中没有任何木料的浪费，那么至少需要切割几次？

- A. 2 B. 4 C. 6 D. 8

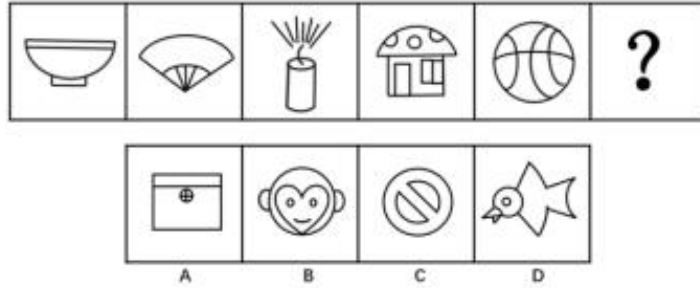
第四部分 判断推理

（共 40 题，参考时限 35 分钟）

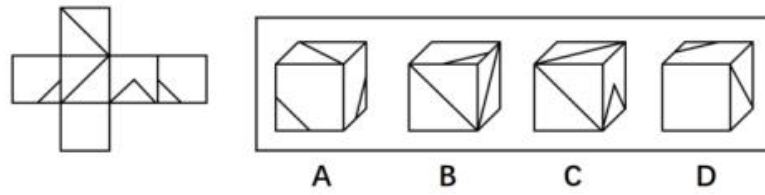
一、图形推理。请按每道题的答题要求作答。

请开始答题：

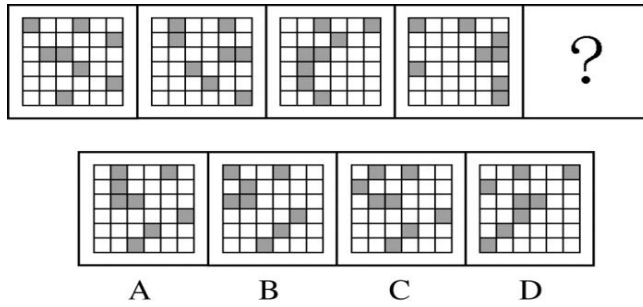
71. 从所给的四个选项中，选择最合适的一个填入问号处，使之呈现一定的规律性：



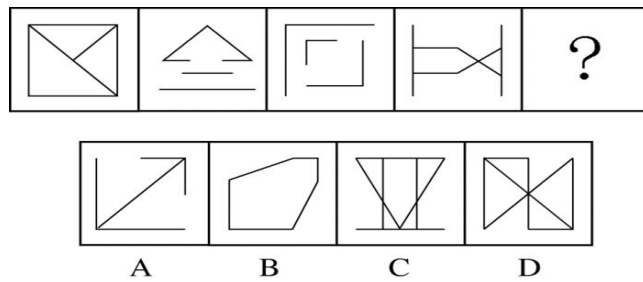
72. 左边给定的是纸盒的外表面，下列哪一项能由它折叠而成？



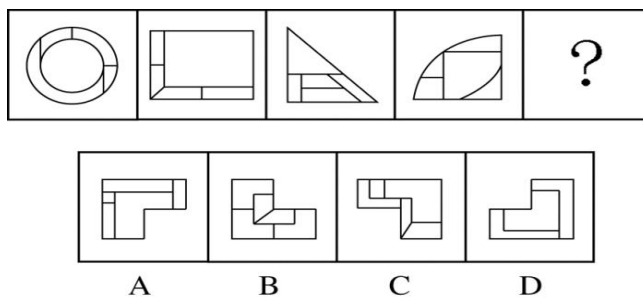
73. 从所给的四个选项中，选择最合适的一个填入问号处，使之呈现一定的规律性：




74. 从所给的四个选项中，选择最合适的一个填入问号处，使之呈现一定的规律性：



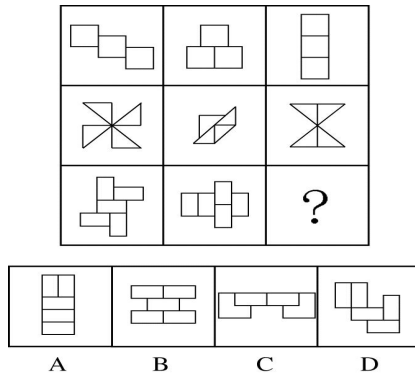
75. 从所给的四个选项中，选择最合适的一个填入问号处，使之呈现一定的规律性：



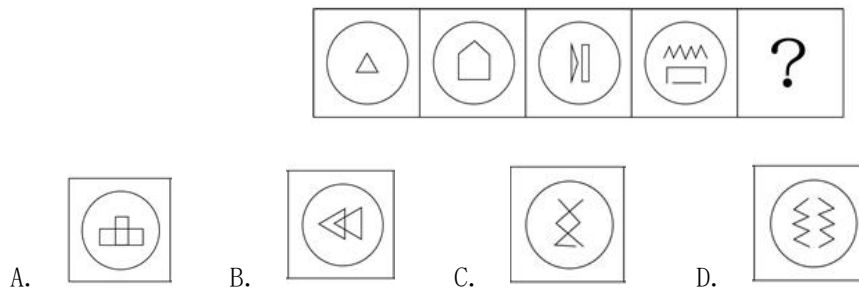
76. 从所给的四个选项中, 选择最合适的一个填入问号处, 使之呈现一定的规律性:



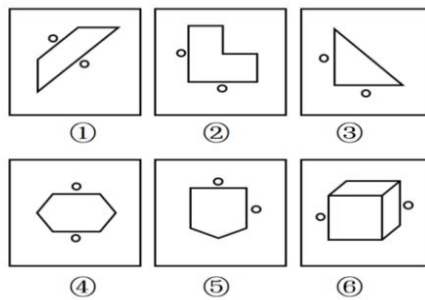
77. 从所给的四个选项中, 选择最合适的一个填入问号处, 使之呈现一定的规律性:



78. 从所给的四个选项中, 选择最合适的一个填入问号处, 使之呈现一定的规律性:

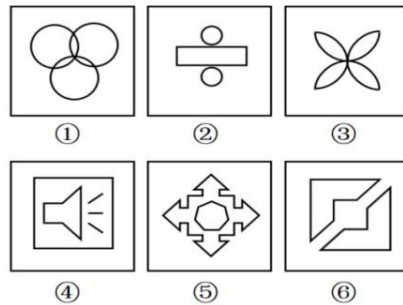


79. 把下面的六个图形分为两类, 使每一类图形都有各自的共同特征或规律, 分类正确的一项是?



- A. ①③⑤, ②④⑥ B. ①⑤⑥, ②③④
C. ①②③, ④⑤⑥ D. ①④⑥, ②③⑤

80. 把下面的六个图形分为两类, 使每一类图形都有各自的共同特征或规律, 分类正确的一项是:



- A. ①④⑥, ②③⑤ B. ①⑤⑥, ②③④
C. ①②③, ④⑤⑥ D. ①④⑤, ②③⑥

二、定义判断。每道题先给出定义，然后列出四种情况，要求你严格依据定义，从中选出一个最符合或最不符合该定义的答案。注意：假设这个定义是正确的，不容置疑的。

请开始答题：

81. 防御商标，是指知名商标的所有人在该注册商标核定使用的商品（服务）或类似商品（服务）以外的其他不同类别的商品或服务上注册的若干相同商标，为防止他人在这些类别的商品或服务上注册使用相同的商标，原商标为主商标，其余为防御商标。通过注册防御商标，商标所有人可以防止他人借用知名商标品牌的影响力“搭便车”，获取不正当竞争的利益。

根据上述定义，下列各项中的商标所有人可以通过注册防御商标的方式保护相关权利的是：

- A. 某演艺公司旗下的艺人里奇是国内知名的实力派演员，近期某药业公司注册了“里奇”商标，作为其生产的药品和医疗器械的商标来使用
B. 某运动品生产企业拥有“SKALAG9”知名商标，近期发现有厂商在其生产的篮球鞋上使用“SKALAG6”商标，以冒充该企业的产品进行销售
C. 某日用品生产企业拥有“丝净”知名商标，用于其生产的洗手液、洗发水等产品，近期发现有厂商也在其生产的日化品中使用“丝净”商标
D. 某网络公司拥有“度度”著名商标，近期某餐饮公司注册“度度烤肉”商标开设多家烤肉店，令许多消费者误以为是该网络公司在多元化经营

82. 形象商标是指具有具体形状，能够通过视觉对其存在形态辨认的商标。非形象商标是没有具体形象，不能借助形象来辨认的商标。人们无法通过视觉感受到非形象商标的存在，而是要通过听觉、味觉去感知它的商标，所以又可以分为听觉商标和味觉商标。

根据上述定义，下列最可能属于非形象商标的是：

- A 某企业的三维标志性商标
B 某公司的红黄蓝三色商标
C 改编自某流行歌曲的某饮料广告歌曲
D 某咖啡包装盒上写着：滴滴香浓，意犹未尽

83. 硬球策略是针对行业领先企业的一种针锋相对的迎击战术，指企业强硬而有效的竞争策略，其目标是急剧改变竞争地位、巩固收益，并为下次攻击做好准备。一般而言，硬球策略包含五种方式：摧毁对方的利润宝地；模仿，然后超越；借助同盟军的力量；聚焦力量，快速出击；不被竞争对手绑架。

根据上述定义，下列未采用硬球策略的是：

- A. UC 公司在建立起手机浏览器的领先地位之后，腾讯浏览器快速跟进，马上也占据了一席之地
B. 赶集网提供了和主流婚介服务供应商一样的产品，并采取完全免费的婚介服务竞争策略

- C. 阿里巴巴凝聚各部门精英，封闭开发推出了淘宝之后，eBay 在中国的市场份额迅速下降
- D. 为了节约劳动力成本，耐克等世界知名品牌纷纷从中国撤厂外迁，向东南亚国家转移

84. 非黑即白是一种逻辑错误，指在两个极端之间，不恰当地二者择一。非黑即白式的思考，无视中间体存在，把选择范围仅限于黑白两个极端，不恰当地要求在二者中择一。

根据上述定义，下列各项中符合非黑即白逻辑错误的是：

- A. 大家都说张三很爱你，所以他一定是很爱你的
- B. 张三不是一个成年人，所以他一定是未成年人
- C. 张三不是一个工作狂，所以他一定是一个懒汉
- D. 张三是个黑皮肤的人，所以他一定不是黄种人

85. 随机试验：指在同一条件下会出现多种可能结果且可以重复进行的试验；试验的所有可能结果虽预先可知，但每次具体实验的结果却无法预知。

下列属于随机试验的是：

- A. 将一壶淡水加热到沸腾，观察其状态变化的实验
- B. 在狮子身上安装定位设备了解其生活习性的实验
- C. 为检测某辆新款汽车的安全性能所做的撞击实验
- D. 抛一枚硬币观察带有数字的一面朝上次数的实验

86. 技术援助是技术先进的国家或多边机构向技术落后的国家在智力、技能、咨询、资料、工艺和培训等方面提供资助的各项活动。技术援助的目的在于帮助受援国建立科技、文化机构并提供相应的设施，以促进受援国科学技术的发展和生产力的提高。

根据上述定义，下列不属于技术援助的是：

- A. 美国农业部向菲律宾政府无偿提供转基因技术资料 and 文献
- B. 我国红十字会派遣专业救援队参与尼泊尔地震救援
- C. 英国政府向埃及提供低息贷款，并派专家帮助建设发电厂
- D. 中国对哥伦比亚提供考察、勘探服务，开发治理该国最长的河流

87. 汇聚效应是指当社会中持某一种社会态度或观点的成员，经过各种媒体的沟通交流，逐渐形成共识，会形成一种超越个体社会态度或观点的整体力量。

根据上述定义，下列属于汇聚效应的是：

- A. 酒驾入刑以来，各地交通事故数量均有下降，“开车不喝酒、喝酒不开车”的观念深入人心
- B. 某幼儿园教师虐童事件曝光，各大网络媒体迅速转载，网民集体呼吁要完善未成年人保护法
- C. 近年来，医患关系紧张，纠纷频发，有人觉得医生没有职业道德，也有人觉得是患者无理取闹
- D. 最近，某明星的离婚事件被媒体炒得沸沸扬扬，引起了广大网友围观，成为人们的谈资

88. 补偿性工资差别是指在实际经济活动中，即使能力和受教育程度相同的劳动者，从事不同的工作也会存在工资差别。排除行业和区域垄断因素，形成这种差别的往往和工作的性质和条件有关。

根据上述定义，下列体现了补偿性工资差别的是：

- A. 某公司招聘新员工，博士工资 8000 起，硕士 5000 起，本科生 3000 起
- B. 某公司新招了一批员工，同一岗位的应届本科生比往届本科生的起薪要低 20%
- C. 某纺织车间生产线噪音很大，生产线的工人比包装线的工人工资要高 20%
- D. 金融、会计领域的从业者平均工资往往高于其他领域，如批发和零售行业

89. 嗜好动机是指人们由于兴趣爱好、生活习惯或职业等原因，成为某类商品的经常性购买者，该

类购买行为具有集中性、稳定性和经常性。

根据上述定义，下列不属于嗜好动机的是：

- A. 王女士喜欢茶艺，看到精美的茶具，总是忍不住要买
- B. 张小姐只要心情不好，就大肆购物，买完心情就好转
- C. 法国人爱喝葡萄酒举世闻名，人均每年消费 75 升
- D. 湖南人和四川人不管走到哪里，吃饭都离不开辣椒

90. 内隐自尊是个体通过内省无法识别出(或无法正确识别出)的自我态度效应,是针对主体自我或与己有关事物的一种无意识的评价或态度,是自我态度长期累积形成的自动化状态,而且往往表现出一种积极倾向。内隐自尊和外显自尊相区别,后者是一种有意识的对自己的评价。

根据上述定义,下列体现内隐自尊的是:

- A. 面试官问小林有什么优势,小林回答说自己爱学习,有责任心
- B. 小刘家境贫困,非常自卑,觉得自己各方面都不如其他同学
- C. 人们总是觉得照片中的自己跟镜子中的自己差别很大
- D. 比起其他汉字,人们往往会对自己名字中的汉字更为偏好

三、类比推理。每道题先给出一组相关的词,要求你在备选答案中找出一组与之在逻辑关系上最为贴近、相似或匹配的词。

请开始答题:

91. 买票: 乘机: 抵达

- A. 生产: 流通: 消费
- B. 相识: 相恋: 结婚
- C. 调研: 调查: 总结
- D. 申报: 评审: 得奖

92. 合格: 不合格

- A. 母语: 外语
- B. 平原: 河流
- C. 饮料: 色素
- D. 金属: 矿物

93. 放大镜: 折射

- A. 飞机: 大气
- B. 手机: 通讯
- C. 轮船: 重力
- D. 剪刀: 杠杆

94. 青蒿素: 青蒿

- A. 鸡精: 鸡汤
- B. 毛线: 围巾
- C. 食盐: 海水
- D. 蜂蜜: 蜜蜂

95. 红枣: 滋补: 水果

- A. 葡萄: 可口: 植物
- B. 平板: 娱乐: 电器
- C. 棉被: 保暖: 纺织
- D. 鼠标: 打字: 配件

96. 健身房: 教练: 健身

- A. 商场: 导购员: 购物
- B. 酒吧: 服务员: 调酒
- C. 旅行社: 导游: 旅游
- D. 学校: 教师: 授课

97. 电力机车: 电动机: 电能

- A. 汽车: 发动机: 汽油
- B. 枪: 弹夹: 子弹

C. 大坝：长江：电能 D. 电脑：显示器：CPU

98. 登记：入住：退房

- A. 调查：结论：报告 B. 报价：预算：审核
C. 起跑：加速：冲刺 D. 下单：签收：评价

99. () 对于 教授 相当于 药品 对于 ()

- A. 副教授：药方 B. 大学：药房
C. 校长：毒品 D. 学问：治疗

100. () 对于 失败 相当于 独断专行 对于 ()

- A. 一意孤行：暴动 B. 见机行事：起义
C. 从善如流：专制 D. 刚愎自用：民主

四、逻辑判断。每道题给出一段陈述，这段陈述被假设是正确的，不容置疑的。要求你根据这段陈述，选择一个答案。注意：正确的答案应与所给的陈述相符合，不需要任何附加说明即可以从陈述中直接推出。

请开始答题：

101. 从国外引进的波尔山羊具有生长速度快、耐粗饲、肉质鲜嫩等特点，养羊效益高。我国北方某地计划鼓励当地农民把波尔山羊与当地的山羊进行杂交，以提高农民养羊的经济效益，满足发展高效优质肉羊的生产需要。

以下哪项如果为真，最能对上述计划的可行性提出质疑：

- A. 波尔山羊耐高温不耐低温，杂交羊不能适应当地的气候条件
B. 并非所有的波尔山羊都可以与当地的山羊成功杂交
C. 当地许多年轻人认为饲养羊是低等的工作，因为养羊的利润比其他工作的利润低
D. 当地一些山羊也具有生长快、耐粗饲、屠宰率高，肉质鲜嫩的优点

102. 研究显示，睡眠障碍与精神障碍存在很大的相关性。很多心理和精神疾病的症状之一就是失眠，比如九成的抑郁病人首发症状是失眠障碍。另外，焦虑症、躁狂症、强迫症等精神障碍都有可能出现不同程度的睡眠障碍。因此，心理学家认为，通过心理治疗就能够缓解失眠。

以下各项如果为真，最能削弱心理学家观点的是：

- A. 身体上的疼痛和疾病才是让睡眠障碍人数增加的一个关键原因
B. 碍于面子问题，许多失眠的人并不愿意去寻求心理医生的帮助
C. 保持一个良好的心态，顺其自然，能够有助于良好的睡眠
D. 睡眠是一个自然的生理现象，有它自己的一套规律来让我们自然入睡

103. 运动员们带伤参赛，带伤训练早已司空见惯。然而，运动员真的不怕疼吗？最新研究表明，运动员在训练场和赛场上高度紧张，将注意力放到与比赛密切相关的地方从而忽视身体疼痛。科学家由此认为，训练和比赛的确提高了人忍受疼痛的能力。

以下各项如果为真，最能支持上述结论的是：

- A. 平均而言，从事对抗性运动的运动员比从事耐力型运动的运动员更能忍受疼痛
B. 研究表明，运动员的忍痛能力与他们接受训练的强度和时间并不成正比
C. 运动员的比赛经验和心理素质都会对疼痛忍耐力产生不小的影响
D. 高强度运动会刺激体内产生内啡肽，它跟吗啡、鸦片剂一样能止痛并产生快感

104. 近日，一段网上流传的爆料视频表示，一些水果种植户为了提前占有市场，会对水果打“甜蜜素”增甜，正是因为这种人工合成的甜味剂，才使得水果越来越甜。该视频引起了市民的恐慌。然而，有专家表示，该视频并不可信，现在的水果吃起来比过去要甜，是由于农业科技人员的精心育种。

以下各项如果为真，最能支持专家说法的是：

- A. 人体无法吸收甜蜜素，即使吸收也会原封不动地排泄出去，因此安全性很高
- B. 甜蜜素能广泛应用于其它食品，但法律上禁止甜蜜素在生鲜食品中使用
- C. 视频中的甜蜜素其实是一种叶面肥料，本身并不甜，可促进植物代谢，改善品质
- D. 水果种植中适量施用生物增甜剂，不但能提高果实糖度，还能使果实着色均匀

105. 虽然相关的法律越来越严厉，但是盗猎现象并没有得到有效遏制，特别是对大象的捕杀越发猖獗。一头没有象牙的大象对偷猎者是没有价值的，野生动物保护委员会为了有效地保护大象，计划将大象的象牙都拔掉，使它们免遭厄运。

这项计划需基于下列哪项假定：

- A. 偷猎者猎杀大象是为了获得他们的牙
- B. 偷猎者不会捕杀对他们没有价值的大象
- C. 获取象牙不是偷猎者猎杀大象的唯一原因
- D. 象牙的高额利润导致盗猎现象的猖獗

根据所给材料，回答 106-110 题。

张强、乔丽、李伟以及赵珊 4 人以相同的积分进入知识竞赛的决赛加时环节，加时赛为抢答形式，题目共有 10 题，规则是每人每题最多回答一次，题目若无人抢答或无人答对，则直接进入下一题，若答对数相同则并列，最后答对最多的人获得了冠军。已知每人至少答对了 1 题，只有 1 题无人抢答或无人答对，且第 1、5、8 题由李伟答对，但他未能获得冠军。

106. 根据上述信息，以下哪项可以推出：

- A. 冠军答对了 4 道题
- B. 有人答对了 2 道题
- C. 只有 1 人答对了 1 道题
- D. 以上三项均无法推出

107. 根据上述信息，以下哪项一定为假：

- A. 张强是第一名
- B. 李伟是第二名
- C. 赵珊、张强并列第三名
- D. 乔丽单独第四名

108. 如果乔丽答对的题目不止 1 题，且所答的题目均不相邻，则以下哪项可以推出：

- A. 乔丽答对了第 2 题
- B. 乔丽答对了第 3 题
- C. 乔丽答对了第 7 题
- D. 乔丽答对了第 9 题

109. 如果冠军答对的题号均为偶数，且张强答对的题目后面一定是紧邻李伟答对的题目，则以下哪项为假：

- A. 赵珊答对第 2 题
- B. 无人答对第 3 题
- C. 乔丽答对第 7 题
- D. 无人答对第 9 题

110. 如果冠军答对了第 3、6、9、10 题，且第 7 题有人答对，则补充以下哪项，可以确定全部答题顺序：

- A. 冠军是赵珊，乔丽答对的题目后面紧邻赵珊答对的题目
- B. 冠军是张强，赵珊答对的题目后面紧邻李伟答对的题目
- C. 冠军是乔丽，张强答对的题目后面紧邻赵珊答对的题目

D. 冠军是赵珊，李伟答对的题目前面紧邻赵珊答对的题目

第五部分 资料分析

(共 20 题，参考时限 25 分钟)

所给出的图、表、文字或综合性资料均有若干个问题要你回答。你应根据资料提供的信息进行分析、比较、计算和判断处理。

请开始答题：

一、根据以下资料，回答 111-115 题。

2016年7月份某省社会消费品零售总额主要数据

指标	7月		1-7月	
	绝对量 (亿元)	同比增长 (%)	绝对量 (亿元)	同比增长 (%)
社会消费品零售总额	579.70	13.5	4084.55	13.0
按经营地分				
城镇	551.25	13.4	3872.18	12.9
乡村	28.45	14.8	212.37	14.1
按消费类型分				
餐饮收入	80.36	14.5	568.18	14.0
商品零售	499.34	13.4	3516.37	12.8
#限额以上法人企业商品零售				
#粮油、食品类	37.68	20.2	269.40	19.6
饮料类	3.20	20.5	20.50	20.7
烟酒类	5.93	14.7	46.00	18.9
服装、鞋帽、针纺织品类	22.37	17.1	181.71	8.5
化妆品类	2.60	8.6	20.77	6.8
金银珠宝类	2.13	-10.7	18.51	-15.2
日用品类	11.95	14.1	81.36	6.7
体育、娱乐用品类	0.41	-2.4	2.77	-8.3
家用电器和音像器材类	25.44	20.6	156.61	10.1
中西药品类	22.45	2.4	161.43	14.1
文化办公用品类	9.92	17.7	61.81	21.2
家具类	14.75	23.4	109.22	27.8
通讯器材类	9.39	61.5	63.17	38.6
石油及制品类	40.91	15.8	266.28	14.7
建筑及装潢材料类	11.91	21.1	75.30	23.1
汽车类	89.73	20.3	636.27	17.5

111. 该省 2015 年上半年社会消费品零售总额约为多少亿元：

- A. 3814.6 B. 3504.9 C. 3103.9 D. 2898.2

112. 按消费类型分，该省 2016 年 7 月餐饮收入与商品零售额的比值约为：

- A. 1:6.2 B. 0.13:1 C. 1:6.5 D. 0.18:1

113. 关于对该省 2016 年 1-7 月各类社会消费品零售额同比增量的排序，下列正确的是：

- A. 汽车类>石油及制品类>粮油、食品类>日用品类
B. 汽车类>粮油、食品类>中西药品类>日用品类

- C. 粮油、食品类>家具类>汽车类>中西药品类
D. 日用品类>中西药品类>粮油、食品类>汽车类

114. 已知消费品零售额由餐饮收入和商品零售组成，问 2016 年 7 月该省城镇社会消费品零售额中，餐饮收入占的比重至少约为：

- A. 16.7% B. 14.6% C. 9.4% D. 5.2%

115. 下列关于该省限额以上法人企业商品零售各大类表述的正确是：

- A. 2016 年 7 月，占社会消费品零售总额比重超过 4% 的大类有 5 类
B. 2016 年 7 月同比增速最快的三类同时也是 2016 年 1-7 月同比增速最快的三类，且名次发生了变化
C. 2016 年上半年，石油及制品类零售额比粮油、食品类零售额多约 6.35 亿元
D. 2015 年 1-7 月，金银珠宝类零售额超过 20 亿元

二、根据所给文字、图表资料回答 116—120 题。

2015 年，N 市战略性新兴产业的从业人员中研究生及以上学历的有 2.39 万人，较上年增长 8.2%；本科及以上学历的有 9.92 万人，较上年增长 7.0%，占从业人员总量的 30.6%；中专及以上学历的有 20.03 万人，较上年增长 3.4%；具有副高以上职称的有 0.72 万人，较上年增长 21.8%。

分行业看，工业企业从业人员 25.44 万人，其中研究生及以上学历的有 0.98 万人；本科及以上学历的有 4.73 万人；中专及以上学历有 13.42 万人；具有副高以上职称的有 0.52 万人。软件业企业从业人员 6.99 万人，其中研究生及以上学历的有 1.41 万人；本科及以上学历的有 5.19 万人；中专及以上学历的有 6.61 万人；具有副高以上职称的有 0.20 万人。

2015 年，N 市战略性新兴产业共投入研发经费 177.77 亿元，较上年增长 13.1%。其中：研发经费投入上亿元的有 27 家，占全市战略性新兴产业企业总数的 4.3%；开展了研发活动的企业有 426 家。研发经费投入强度（研发经费占主营业务收入的比重）为 3.33%，比上年提高了 0.51 个百分点。分行业看，工业企业投入研发经费 75.75 亿元，比上年下降 2.7%；软件业企业投入研发经费 102.02 亿元，比上年增长 28.6%。工业企业研发经费投入强度为 1.55%，比上年提高了 0.05 个百分点；软件业企业研发经费投入强度为 23.20%，比上年提高了 1.1 个百分点。

2015 年，N 市战略性新兴产业拥有各类人才载体共 552 个，包括：博士后科研工作站 36 个（较上年增加 6 个），其中工业企业拥有 31 个，软件业企业拥有 5 个；企业院士工作站 22 个（与上年持平），其中工业企业拥有 20 个，软件业企业拥有 2 个；企业技术中心 287 个（较上年增加 28 个），其中工业企业拥有 226 个，软件业企业拥有 61 个；工程技术研究中心 207 个（较上年增加 17 个），其中工业企业拥有 161 个，软件业企业拥有 46 个。

116. 2015 年 N 市战略性新兴产业的从业人员中，中专以下学历的从业人员约为：

- A. 0.09 万人 B. 10.1 万人 C. 12.4 万人 D. 17.6 万人

117. 与 2014 年相比，2015 年 N 市战略性新兴产业的从业人员中本科学历从业人数约增长了：

- A. 6.6% B. 7.0% C. 7.4% D. 8.2%

118. 2014 年 N 市软件业企业主营业务收入约为多少亿元：

- A. 461.6 B. 439.7 C. 336.9 D. 359.0

119. 2015 年，N 市战略性新兴产业拥有各类人才载体数量同比约增长了：

- A. 21.2% B. 16.6% C. 12.7% D. 10.2%

120. 关于 2015 年 N 市战略性新兴产业有关情况表述不正确的是:

- A. 软件业企业从业人员中拥有研究生及以上学历的比重, 较工业企业高出约 16 个百分点
- B. 战略性新兴产业中, 开展了研发活动的企业达到七成
- C. 工业企业拥有人才载体数量比软件业企业多 324 个
- D. 软件业企业研发经费投入强度约为工业企业的 15 倍

三、根据所给文字、图表资料回答 121—125 题。

某市 2015 年常住居民人均可支配收入 20110 元, 比上年增长 9.6%, 高于上年 0.5 个百分点。城镇常住居民人均可支配收入 27239 元, 增长 8.3%; 农村常住居民人均可支配收入 10505 元, 增长 10.7%。全市常住居民人均消费性支出 15140 元, 增长 9.6%。城镇常住居民人均消费支出 19742 元, 增长 8.0%; 农村常住居民人均生活消费支出 8938 元, 增长 12.0%。

全市城镇企业职工基本养老保险参保人数 837.38 万人, 比上年增长 2.9%。参加城乡居民社会养老保险人数 1111.06 万人, 下降 0.1%。城镇职工基本医疗保险参保人数 588.46 万人, 增长 2.2%; 城乡居民基本医疗保险参保人数 2677.75 万人, 下降 0.1%。工伤保险参保人数 428.47 万人, 增长 0.6%。生育保险参保人数 354.33 万人, 增长 2.0%; 18.07 万人次享受生育保险待遇, 增长 50.7%。失业保险参保人数 439.52 万人, 增长 0.1%。

表3-1 2015年常住居民人均可支配收入

指 标	全市常住居民		城镇常住居民		农村常住居民	
	绝对量 (元)	比上年增长 (%)	绝对量 (元)	比上年增长 (%)	绝对量 (元)	比上年增长 (%)
人均可支配收入	20110	9.6	27239	8.3	10505	10.7
工资性收入	10674	7.9	15936	6.1	3583	12.1
经营净收入	3315	11.2	2974	11.9	3775	11.0
财产净收入	1367	8.8	2175	7.3	278	10.2
转移净收入	4754	12.5	6154	13.1	2869	8.7

121. 该市 2015 年农村常住居民人均生活消费支出比 2014 年约增长了多少元:

- A. 1124
- B. 1073
- C. 1015
- D. 958

122. 2015 年该市城乡居民基本医疗保险参保人数约为城镇职工基本医疗保险参保人数的多少倍:

- A. 4.6
- B. 5.2
- C. 3.9
- D. 6.5

123. 2015 年该市城镇常住居民工资性收入占人均可支配收入的比重与上年相比:

- A. 增加了 1.2 个百分点
- B. 增加了 2.9 个百分点
- C. 降低了 1.2 个百分点
- D. 降低了 2.9 个百分点

124. 与 2013 年相比, 2015 年该市常住居民人均可支配收入约增长了:

- A. 18.8%
- B. 19.6%
- C. 20.6%
- D. 22.7%

125. 根据材料, 以下说法中不能推出的有几个:

- ①该市 2015 年农村常住居民人均可支配收入的同比增量不到城镇常住居民的 40%
- ②该市 2015 年生育保险参保人数比上年增加 7 万余人
- ③该市 2015 年城乡常住居民人均可支配收入的各项具体指标中, 占可支配收入的比重均同比上升的有 2 项

- A. 0 B. 1 C. 2 D. 3

四、根据所给文字、图表资料回答 126—130 题。

S 市 2015 年规模以上工业增加值 6785.01 亿元，比上年增长 7.7%。其中，国有企业增加值 9.06 亿元，下降 9.1%；股份制企业增加值 3743.60 亿元，增长 12.2%；外商及港澳台投资企业增加值 2996.45 亿元，增长 2.9%。分轻重工业看，轻工业增加值 1197.86 亿元，下降 3.2%；重工业增加值 5587.15 亿元，增长 10.2%。

图4-1 2015年S市规模以上工业增加值累计同比增长速度（%）

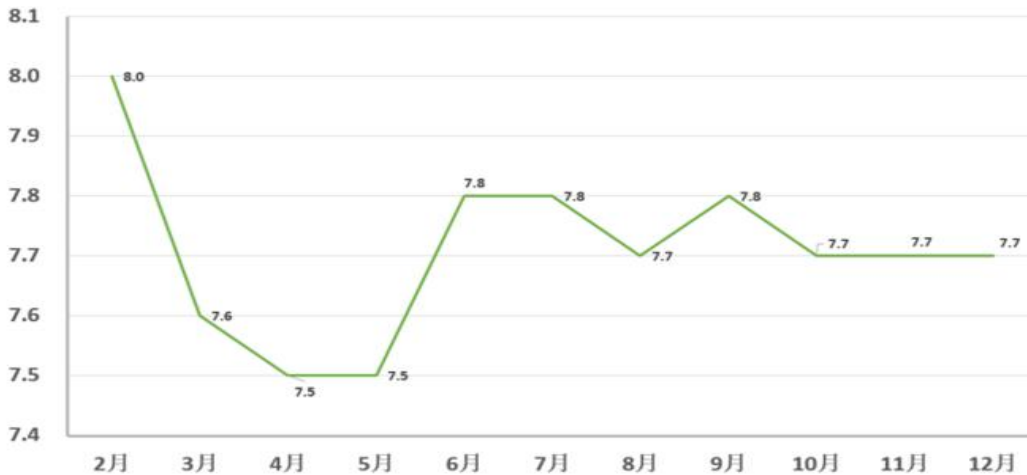
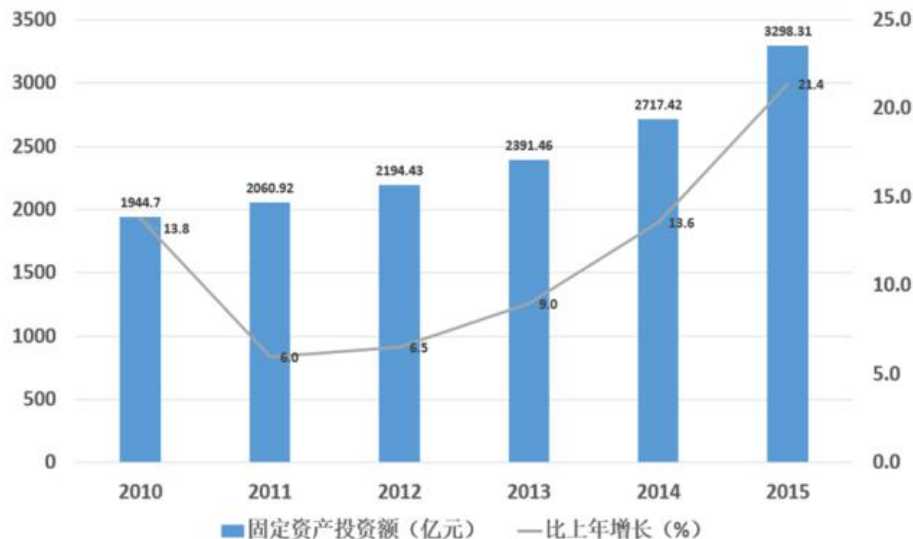


图4-2 2010-2015年S市固定资产投资及增长速度



126. S 市 2015 年股份制企业增加值占规模以上工业增加值比重比外商及港澳台投资企业高几个百分点：

- A. 11 B. 15 C. 18 D. 21

127. S 市 2015 年国有企业增加值同比减少约多少万元：

- A. 7557 B. 9069 C. 7557 万 D. 9069 万

128. 2015 年 3 月-12 月，S 市单月规模以上工业增加值同比增速不低于 7.7% 的月份有多少个：
A. 5 个 B. 7 个 C. 8 个 D. 10 个

129. “十二五”期间（2011-2015 年），S 市固定资产投资年均增长约：
A. 225.6 亿元 B. 247.5 亿元
C. 270.7 亿元 D. 309.4 亿元

130. 根据材料，下列说法错误的是：
A. 2014 年 S 市规模以上工业增加值约为 6300 亿元
B. 2015 年上半年 S 市规模以上工业增加值同比增速比下半年高
C. 2014 年 S 市重工业增加值比轻工业增加值高 4 倍多
D. 若保持 2015 年的增长速度，2016 年 S 市固定资产投资将超过 4000 亿元